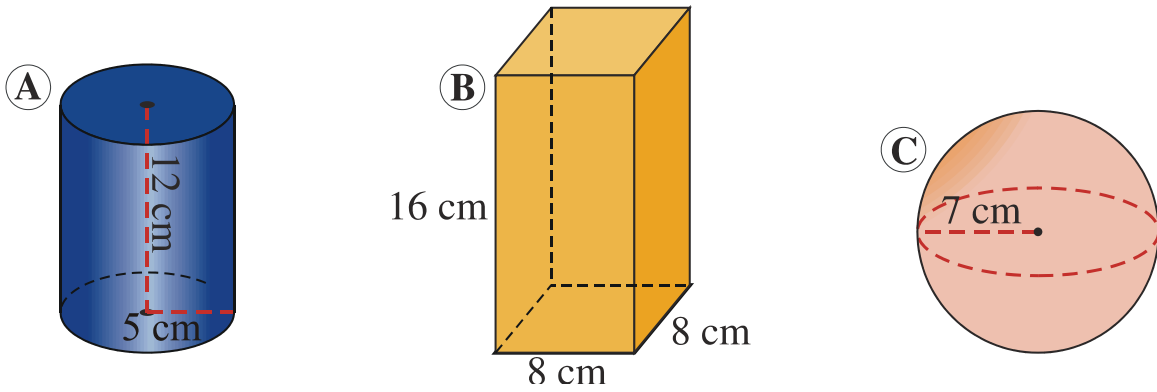
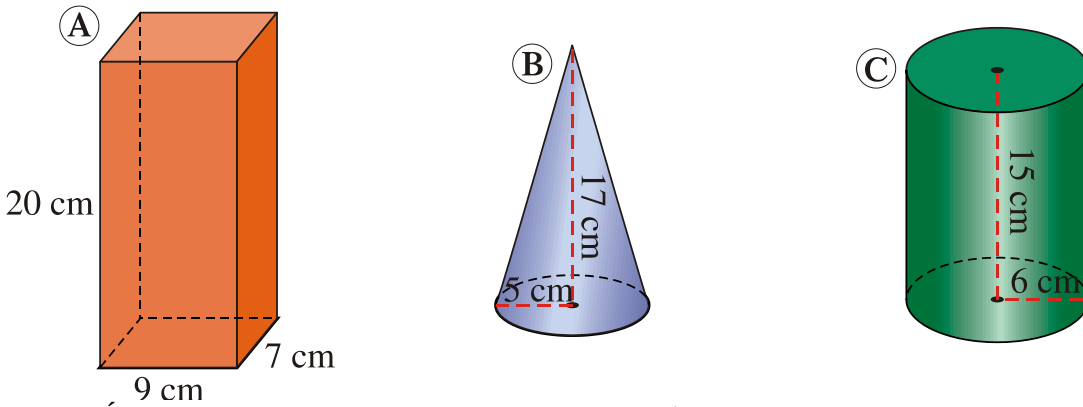


1. Calcula el volumen de estos cuerpos:



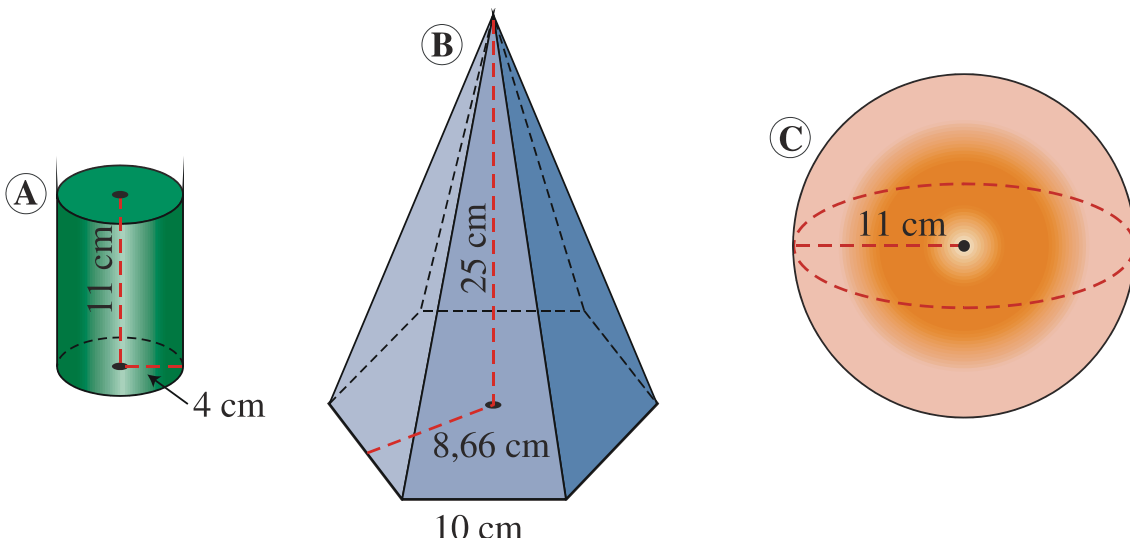
SOLUCIÓN:  $V_A = 942 \text{ cm}^3$ ;  $V_B = 1024 \text{ cm}^3$ ;  $V_C = 1436 \text{ cm}^3$

2. Calcula el volumen de estos cuerpos:



SOLUCIÓN:  $V_A = 1260 \text{ cm}^3$ ;  $V_B = 444,8 \text{ cm}^3$ ;  $V_C = 1695,6 \text{ cm}^3$

3. Calcula el volumen de estos cuerpos:



SOLUCIÓN:  $V_A = 552,64 \text{ cm}^3$ ;  $V_B = 2156 \text{ cm}^3$ ;  $V_C = 506,6 \text{ cm}^3$