

Nombre: .....

Curso: .....

**1** Consulta en el explorador digital el tiempo que hará mañana en tu comunidad autónoma:

<http://www.tiching.com/685951>

¿Qué temperaturas máximas y mínimas habrá? .....

¿Cuál será la velocidad del viento? .....

¿Qué porcentaje de humedad se registrará en el aire? .....

Si hay mar, ¿cuál será el estado del mar? .....

**2** Observa estas dos imágenes y busca información para responder a las siguientes preguntas:






¿A qué clima crees que pertenecen estas fotos? .....

¿Cómo influye el clima en el modo de vivir de sus habitantes? .....

Busca qué país se podría corresponder con las fotos: .....

**3** Indica qué miden cada uno de los siguientes aparatos:



.....  
.....  
.....

Nombre: .....

Curso: .....

**1** Describe detalladamente la composición de la hidrosfera terrestre:

.....

.....

.....

**2** Observa estas dos imágenes y contesta las preguntas:



– ¿Qué fenómeno muestran estas imágenes? .....

.....

– ¿Qué otras formas de movimiento presentan los océanos y los mares? .....

.....

**3** Relaciona estas palabras con su definición:

Cauce

Final del recorrido de un río.

Caudal

Terreno por el que fluye un río.

Curso alto

Cantidad de agua que lleva un río.

Curso bajo

Recorrido del río en su nacimiento.

Curso medio

Tramo intermedio del río en tierras llanas.

**4** Escribe cuáles son los principales contaminantes del agua:

1. ....

2. ....

3. ....

4. ....

5. ....