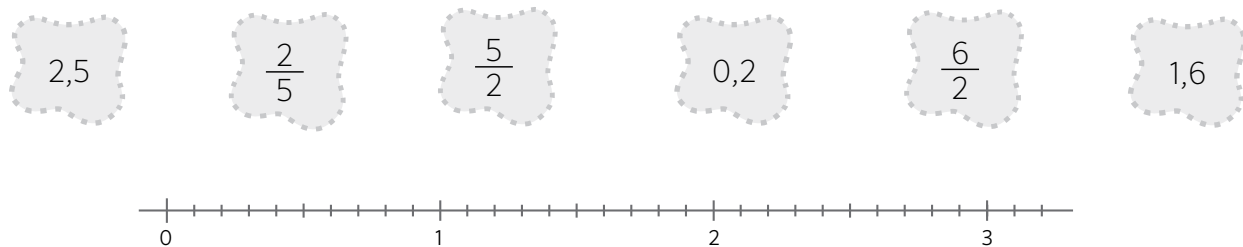


- 1 Juan ha comprado un jersey por 13,25 € y un pantalón por 19,84 €. Ha pagado con un billete de 50 €. Al calcular lo que le tiene que devolver, el dependiente se ha dado cuenta de que en su calculadora no funciona la tecla de la coma. ¿Qué puede hacer? ¿Cuánto le tiene que devolver?



- 2 El resultado de una operación es 973,24. ¿Qué operación puede ser si he utilizado multiplicación y resta?
- 3 Coloca los números decimales y las fracciones en la recta numérica.



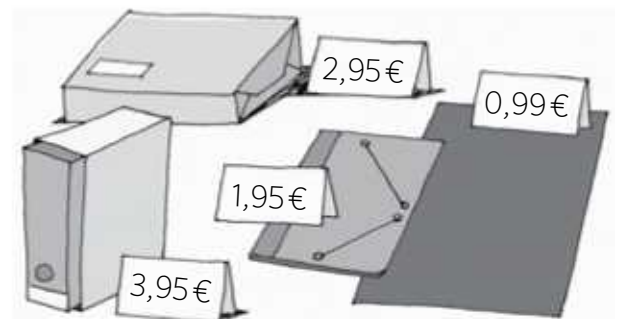
- 4 Helena ha escrito un número que tiene 10 centésimas, 34 décimas y 234 milésimas más que el de Carlos. Averigua qué número ha escrito.



- A. 307,214 C. 312,38
B. 310,274 D. 307,234

- 5 Mateo quiere saber si puede comprar estos productos con 10 €, pero no tiene papel a mano. Ha hecho un cálculo aproximado y... ¿qué crees que hará?

- A. Volver a casa a por más dinero.
B. Comprar quitando un producto.
C. Entrar y comprar tranquilamente.



- 1 Juan ha comprado un jersey por 13,25 € y un pantalón por 19,84 €. Ha pagado con un billete de 50 €. Al calcular lo que le tiene que devolver, el dependiente se ha dado cuenta de que en su calculadora no funciona la tecla de la coma. ¿Qué puede hacer? ¿Cuánto le tiene que devolver?



Pasarlo a céntimos: 13,25 € son 1.325 CENT, 19,84 € son 1.984 CENT y 50 € son 5.000 CENT.

$$1.325 + 1.984 = 3.309 \quad 5.000 - 3.309 = 1.691$$

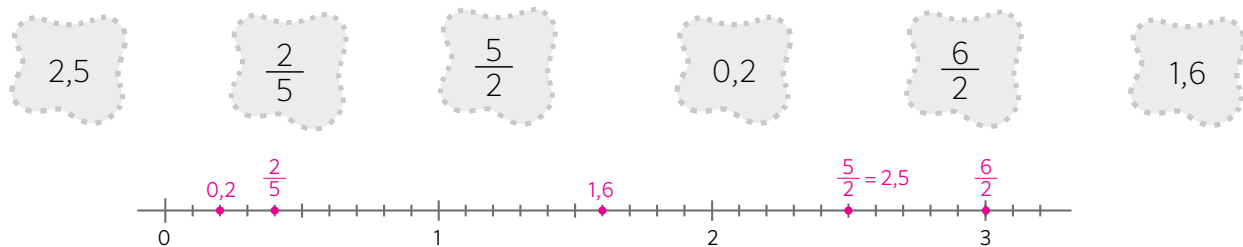
Le tiene que devolver 1.691 CENT, es decir, 16,91 €.

- 2 El resultado de una operación es 973,24. ¿Qué operación puede ser si he utilizado multiplicación y resta?

Respuesta posible: $973,24 : 4 = 243,31$ $500 - 243,31 = 256,69$

Las operaciones serían: $500 - 256,69 = 243,31$ y $243,31 \times 4 = 973,24$

- 3 Coloca los números decimales y las fracciones en la recta numérica.



- 4 Helena ha escrito un número que tiene 10 centésimas, 34 décimas y 234 milésimas más que el de Carlos. Averigua qué número ha escrito.



A. 307,214

C. 312,38

B. 310,274

D. 307,234

- 5 Mateo quiere saber si puede comprar estos productos con 10 €, pero no tiene papel a mano. Ha hecho un cálculo aproximado y... ¿qué crees que hará?

- A. Volver a casa a por más dinero.
 B. Comprar quitando un producto.
 C. Entrar y comprar tranquilamente.

